

Sachtexte 


Sachtexte

Informationen entnehmen, untersuchen, veranschaulichen

orientierendes Lesen



Diagonallesen



Slalomlesen



Zickzacklesen

S. 51/2b

Der Text beschäftigt sich mit Koalas und ihrem Lebensraum.

2c

Der Text ist an Jugendliche gerichtet (Schüler).



Textstellen: ... du öffnest deine Zimmertür ... " (Z.1)
... Sicher wärest du auch nicht begeistert, wenn deine jüngeren Geschwister an deine Zimmertür klopfen würden, um bei dir einzuziehen? (Z. 22-24)

S. 52/2d

nicht zutreffendes:

- ① Die Autorin findet Koalas niedlich ...
- ③ Die Autorin spricht sich gegen das Fällen von Eukalyptusbäumen aus.
- ⑤ Die Autorin will Geld für die bedrohten Koalas sammeln.
- ⑦ Die Autorin appelliert an die Menschen ...

S. 52/2e (Bsp.)

⑥ Die Autorin will darüber informieren, dass Koalas gefährdet sind.

Begründung: - Bäume in einem Koala-Revier sind von anderen Artgenossen markiert
- nur 30 der 600 Eukalyptusarten werden genutzt
- Eukalyptusbäume werden gefällt für den Straßentbau
- Koalas sind hilflos auf dem Boden: rasende Autos, Hunde, Felljäger

Gliederung eines Textes untersuchen

Um einen Sachtext genau zu erfassen, ist es hilfreich, sich mit seiner Gliederung zu beschäftigen. Dabei helfen Zwischenüberschriften und die Einteilung in Textabschnitte. Hat der Text keine Zwischenüberschriften, formuliert man selbst welche

Ist ein umfangreicher Text nicht in Abschnitte gegliedert, sollte man ihm selbst in Abschnitte unterteilen. Dabei orientiert man sich an Einleitesätzen. Das sind Sätze, die ein neues Teilthema einführen. Oft erkennt man sie an Formulierungen, wie z.B.:

Im Folgenden wird...

Ein weiterer Aspekt ist...

Weltraumeroberer Yuri Gagarin

Z. 1-5: „Kommandos zum ersten Weltraumflug“

- Start wird dokumentiert
- Funkkommandos

} Abgehoben

Z. 6-13: „Erfolgreicher Weltraumflug“

- ↗ - 108 minütiger Flug ins Universum
- 12. April 1961
- bejubelter Weltraumflug in Russland

} Gelandet

Z. 14-22: „Symbolischer Sieg im Kalten Krieg“

- erster bemannter Raumflug war weltpolitische Sensation
- Ost-West-Staatssysteme wollten sich übertrumpfen
- „Sieg“ für den Kommunismus

} Politik

Z. 23-33: „Weltraumheld Gagarin“

- Beschreibung der Welt eines Menschen aus dem All

} Eindrücke

Z. 34-40: „Und ich schwebte...“

- Beschreibung des Gefühls der Schwerelosigkeit } Schwerelosigkeit

Z. 41-49: „Berufswunsch“

- * 1934 in Kluschino

- Vater Tischler, Mutter Bäuerin

- Erlebnis aus Kriegsjahren führte zum Berufswunsch Pilot } Kindheit

Z. 50-55: „Sehnsucht Fliegen“

- Gagarin war Gast bei vielen Staatsoberhäuptern

- war darum weltweit unterwegs

- Gagarin wollte wieder selber fliegen } Reisen

Z. 56-61: „Letzter Flug“

- 27. März 1968 Testflug

- 22 Minuten nach Start kam es zu einem Zwischenfall

- Gagarin stürzte ab } Tod

Legende zu den Aufgaben:

Zeilen- und Inhaltsangabe

Abschnittsüberschrift (nur Beispiel zum Orientieren)

Begriffe zu den Textabschnitten

Jeder Text folgt einem vom Autor beabsichtigten **gedanklichen Aufbau** (Gedankengang). Um diesen zu erfassen, muss man die **Abfolge der einzelnen Gedanken** verstehen.

Solche Gedanken können z.B. folgende sein:

- Aufwerfen von Fragen,
- Erläutern durch Beispiele,
- Mitteilen von Fakten und Informationen,
- Benennen von Ursachen,
- Aufzeigen von Folgen,
- Ziehen eines Vergleichs,
- Zusammenfassen von Aussagen.

Die Sätze und Abschnitte eines Textes sind in der Regel inhaltlich und sprachlich miteinander verbunden. Häufig wird ein Bezug zum vorhergehenden Satz hergestellt, z.B. durch die Verwendung von:

- Pronomen, z.B. er, seine, diese,
- Adverbien, z.B. daher, folglich, also, vorher, danach,
- Präpositionen, z.B. während, zwecks.

Informationen aus Grafiken entnehmen

Grafiken stellen Informationen übersichtlich und anschaulich dar. Man erhält schnell einen Überblick über Daten und Fakten.
Zur Auswertung einer Grafik muss man die dort enthaltenen Angaben in einen Text umformulieren.

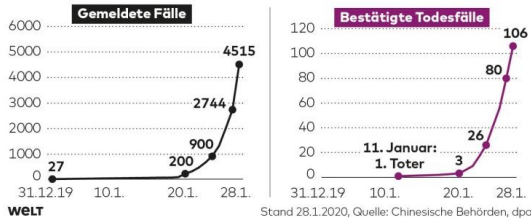
Formen von Grafiken



Säulendiagramm

Ausbreitung des Coronavirus in China

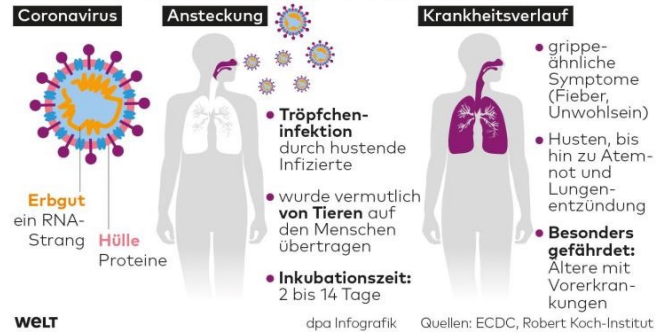
seit Bekanntwerden erster Fälle im Dezember 2019



Achsendiagramm

Das neue Coronavirus 2019-nCoV

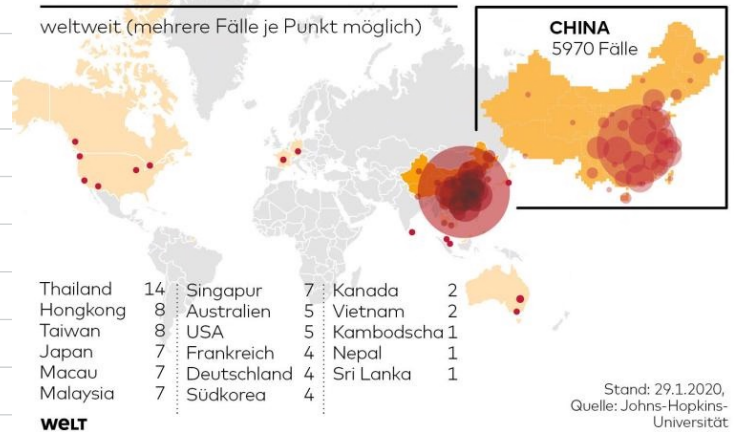
Das neue Coronavirus breitet sich seit Dezember 2019 aus. Es infiziert die unteren Atemwege und kann eine schwere Lungenerkrankung verursachen. Vorläufige Erkenntnisse zu Ansteckung und Krankheitsverlauf:



Infografik

Verbreitung der Corona-Infektionen

weltweit (mehrere Fälle je Punkt möglich)



SONNTAGSFRAGE

LANDTAGSWAHL SACHSEN 2019

ANGABEN IN %



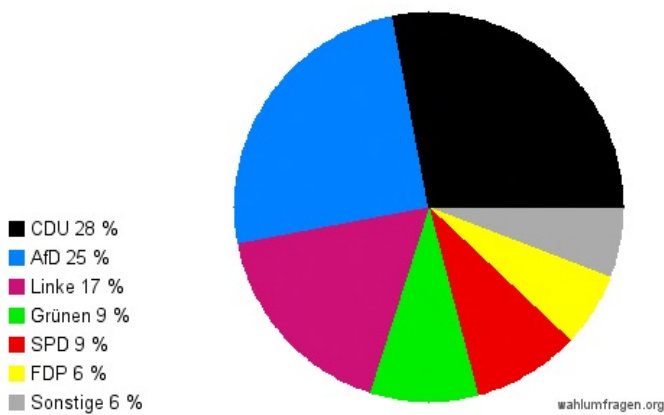
Vergleichszahlen letzte Landtagswahl 2014

QUELLE: INFRATEST DIMAP

Säulendiagramm

Wahlumfrage zur Landtagswahl in Sachsen

Stand: 05.04.2019 - INSA




wahlumfragen.org

Kreisdiagramm

1. Bundesliga Tabelle vom 3. Februar 2019 (20. Spieltag, Saison 2018 / 2019)

Platz	Verein	Spiele	G	U	V	Tore	Differenz	Punkte
1.	Borussia Dortmund	20	15	4	1	51:20	31	49
2.	Borussia Mönchengladbach	20	13	3	4	41:18	23	42
3.	FC Bayern München	20	13	3	4	44:23	21	42
4.	RB Leipzig	20	11	4	5	38:18	20	37
5.	Eintracht Frankfurt	20	9	5	6	40:27	13	32
6.	VfL Wolfsburg	20	9	4	7	29:27	2	31
7.	Bayer 04 Leverkusen	20	9	3	8	32:31	1	30
8.	TSG Hoffenheim	20	7	8	5	38:29	9	28
9.	Hertha BSC	20	7	7	6	31:31	0	28
10.	SV Werder Bremen	20	7	6	7	32:32	0	27
11.	1. FSV Mainz 05	20	7	6	7	22:28	-6	27
12.	FC Schalke 04	20	6	4	10	24:29	-5	22
13.	Sport-Club Freiburg	20	5	7	8	26:34	-8	22
14.	Fortuna Düsseldorf 1895 e.V.	20	6	4	10	22:39	-17	22
15.	FC Augsburg	20	4	6	10	29:33	-4	18
16.	VfB Stuttgart	20	4	3	13	17:44	-27	15
18.	1. FC Nürnberg	20	2	6	12	17:44	-27	12
18.	Hannover 96	20	2	5	13	18:44	-26	11

Tabelle



So kannst du Informationen aus Grafiken entnehmen

1. Lies die Überschrift. Welches Thema wird behandelt?
2. Lies die Bezeichnungen der Achsen des Diagramms bzw. die Legende. Was wird jeweils angegeben?
3. Entnimm den Darstellungen die konkreten Werte.
4. Vergleiche die Werte miteinander. Fasse ähnliche Aussagen zusammen und hebe auffällige Angaben hervor.
5. Ziehe Schlussfolgerungen aus dem Vergleich.